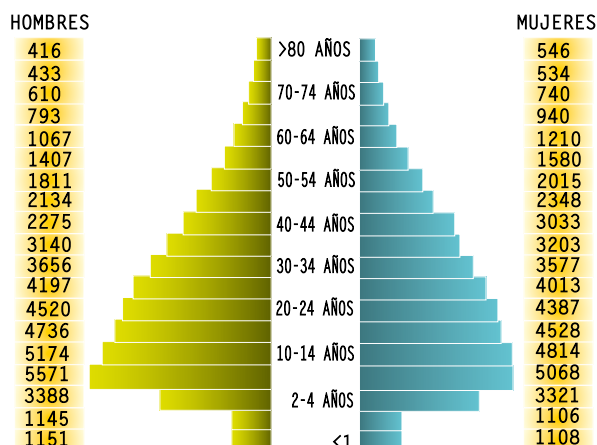


Sociales

5°



La pirámide de población es un tipo de gráfica que permite representar y analizar algunos aspectos demográficos, como se muestra a continuación.



1. De acuerdo con la información anterior, para la elaboración de la pirámide de población, es necesario contar con información sobre

- A. porcentajes de hombres y mujeres entre 1 y 80 años.
- B. las edades mínimas y máximas que se encuentran en una población.
- C. número de personas adultas para calcular la cantidad de niños.
- D. cantidad de hombres y mujeres por cada rango de edad establecido.

2. La variedad de platos típicos colombianos requiere ingredientes originados en diferentes continentes y zonas climáticas del mundo. En muchos casos, el origen de estos platos se relaciona con los procesos ocurridos durante la Conquista y la Colonia porque



- A. con la llegada de los españoles, los cultivos americanos desaparecieron por completo.
- B. el mestizaje entre indígenas, europeos y africanos transformó muchos rasgos de la cultura.
- C. los primeros viajes de exploración tenían el objetivo de conseguir especias y oro.
- D. los europeos se acostumbraron a consumir solo los productos nativos.

3. A mediados del siglo XX, la población urbana en Colombia no superaba el 38%. En la actualidad, se calcula que más del 70% de los colombianos vive en las ciudades o cabeceras municipales. Una de las principales consecuencias que en el futuro tendría la disminución de los habitantes en las áreas rurales sería



- A. la escasez de alimentos y materias primas.
- B. el envejecimiento de la población.
- C. la desaparición de ciudades intermedias.
- D. la migración masiva hacia el exterior.

4. La siguiente tabla muestra la natalidad, mortalidad y el crecimiento vegetativo de algunos países

PAÍS	NATALIDAD	MORTALIDAD	C. VEGETATIVO
AUSTRIA	9.8	10.5	-0.7
CAMERÚN	42.06	13.96	28.1
COLOMBIA	20.7	4.6	16.1
E. U. A.	14.6	8.6	6.0
ITALIA	9.2	9.8	-0.6

De acuerdo con la información de la tabla, el crecimiento vegetativo es un indicador que expresa

- A. la disminución de la población en todos los países.
- B. el aumento o disminución de la población por causas naturales.
- C. la cifra que resulta de restarle la natalidad a la mortalidad.
- D. el aumento de la natalidad en algunas regiones del mundo.

5. Aunque el conflicto armado ha impulsado a muchos colombianos a migrar hacia las ciudades o a buscar refugio fuera del país, la mayor parte de los ciudadanos decide cambiar su lugar de residencia de forma voluntaria porque

- A. las migraciones aumentaron a partir de la década de 1950.
- B. los desastres naturales limitan sus posibilidades de sustento.
- C. buscan mejores oportunidades de estudio y empleo en otro lugar.
- D. toman la decisión de partir en medio del conflicto sin ninguna presión.

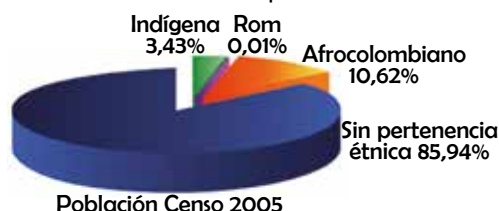


5. Aunque el conflicto armado ha impulsado a muchos colombianos a migrar hacia las ciudades o a buscar refugio fuera del país, la mayor parte de los ciudadanos decide cambiar su lugar de residencia de forma voluntaria porque

- A. las migraciones aumentaron a partir de la década de 1950.
- B. los desastres naturales limitan sus posibilidades de sustento.
- C. buscan mejores oportunidades de estudio y empleo en otro lugar.
- D. toman la decisión de partir en medio del conflicto sin ninguna presión.

RESPONDA LAS PREGUNTAS 6 Y 7 DE ACUERDO CON LA SIGUIENTE INFORMACIÓN

Pertenencia étnica de la población colombiana



6. Sobre la composición étnica de la población colombiana, a partir de la gráfica, es posible afirmar que

- A. la población Rom ya desapareció.
- B. los no mestizos superan en total el 14%.
- C. los indígenas son la población más escasa.
- D. la población indígena va en aumento.

7. Teniendo en cuenta el origen y la historia de la población colombiana, se puede afirmar que el sector considerado "sin pertenencia étnica" es el de la población

- A. negra.
- B. raizal.
- C. mestiza.
- D. blanca.

8. En décadas recientes, varios países han tomado medidas para evitar que su población siga creciendo de forma descontrolada. Por el contrario, la mayoría de países africanos mantienen una natalidad muy alta. Un crecimiento exagerado de población puede causar problemas ambientales porque

- A. para satisfacer sus necesidades las personas agotan los recursos.
- B. no es posible ofrecer un empleo a un alto número de personas.
- C. aumenta la cantidad de niños sin cupo en los colegios.
- D. todas las personas tienen vehículo y aumentan los gases contaminantes.

9. En Colombia, a principios del siglo XX, el promedio de hijos por mujer era 6. Cien años después, no superaba los 3 hijos. Esta disminución se puede explicar a partir de los cambios sociales y económicos porque

- A. hace cien años, las mujeres vivían muchísimo más tiempo.
- B. han aumentado las oportunidades de estudio y empleo para la mujer.
- C. desde hace varias décadas las mujeres participan en política.
- D. la mortalidad infantil ha disminuido por los avances médicos.

10. Aunque las migraciones del campo a la ciudad pueden generar muchas problemáticas en los dos espacios, el aumento de población urbana representaría una ventaja económica para las áreas rurales si se desarrollara como actividad no tradicional

- A. la agricultura.
- B. el pastoreo.
- C. la artesanía.
- D. la agroindustria.

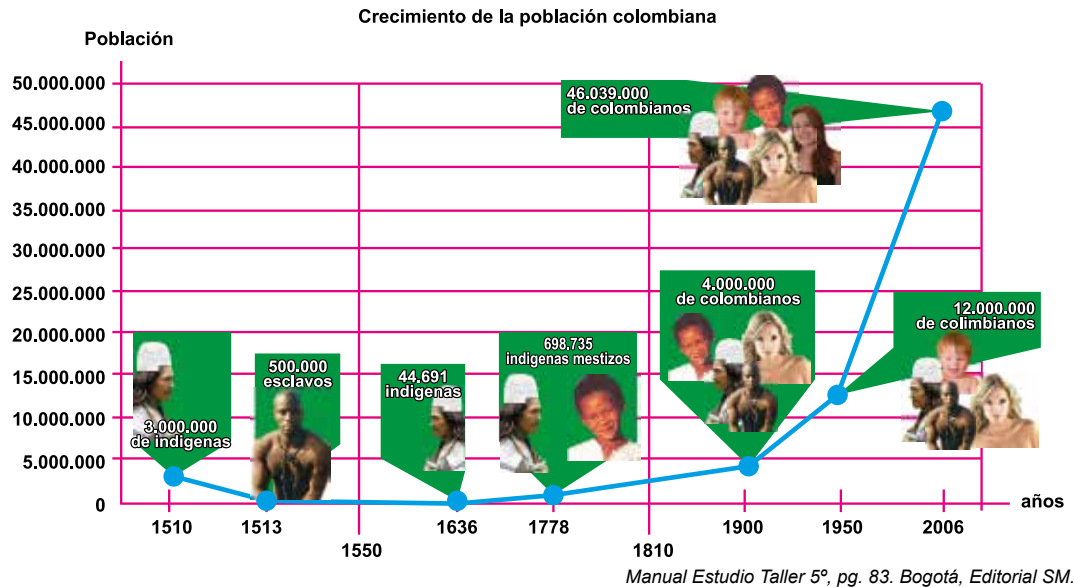
11. Debido a los avances médicos y sanitarios, la esperanza de vida o edad promedio a la cual puede llegar la mayoría de habitantes de un país, ha aumentado de 50 ó 60 años a 70 u 80 años. En consecuencia, ha disminuido la mortalidad y cada vez es mayor el porcentaje de población que se encuentra en la tercera edad. Debido a este hecho, en el futuro, los Estados pueden enfrentar dificultades económicas, entre las que se puede incluir

- A. la disminución de la población joven que utilice los servicios educativos.
- B. los elevados costos de las pensiones y la cobertura del servicio de salud.
- C. la disminución del número de empleados en las entidades públicas.
- D. el aumento de personas en edad para participar en las elecciones.

12. Las migraciones aceleradas del campo a la ciudad han contribuido a la desintegración familiar, pues como demuestran los estudios realizados en Colombia, los adultos mayores permanecen en sus lugares de origen mientras sus hijos y nietos se van a la ciudad. Podría plantearse que esta problemática puede tener consecuencias culturales negativas, si se tiene en cuenta que

- A. las tradiciones se pierden porque las personas de mayor edad no tienen a quien transmitirlos.
- B. continúan las celebraciones populares en los pueblos y atraen turistas y antiguos habitantes.
- C. los trabajadores de mayor edad pueden dedicarse a la elaboración y venta de artesanías.
- D. en las grandes ciudades pueden organizarse "colonias" de personas que tienen el mismo origen.

13. La siguiente gráfica de uso demográfico puede tener como función principal:



- A. indicar el número de colombianos que en la actualidad pertenecen a grupos indígenas.
- B. permitir que los expertos determinen cuánto crecerá la población en las próximas décadas.
- C. explicar las causas de la disminución de la población afrocolombiana e indígena.
- D. señalar la cantidad de población por cada periodo señalado para analizar su crecimiento.

14. Contrario a lo que comúnmente se piensa, no todos los habitantes del campo que salen de sus lugares de origen se dirigen hacia las grandes ciudades. Muchos migran para instalarse en ciudades intermedias y otros deciden convertirse en colonos en áreas selváticas que no han sido explotadas. Este interés por habilitar nuevas tierras para la agricultura se explica por

- A. la búsqueda de mejores oportunidades de estudio y cobertura de servicios.
- B. el impacto negativo que la deforestación tiene sobre los suelos desprotegidos.
- C. la necesidad de mantener el oficio que los campesinos tienen como sustento.
- D. la presencia de grupos armados en las regiones selváticas y apartadas.

15. En 1951, la población urbana en Colombia alcanzaba el 38.9%, mientras que un 61.1% habitaba en las áreas rurales. En 1973 estas cifras se habían invertido, pues un 63.6% de los colombianos habitaban en las ciudades o cabeceras municipales y solo el 34.6% eran considerados habitantes rurales. En la actualidad, la población urbana está a punto de alcanzar el 80%. Una consecuencia negativa que en el futuro tendrá este fenómeno podría ser

- A. la escasez de alimentos por falta de campesinos que los produzcan.
- B. el aumento de las áreas protegidas y de bosques donde ya no se cultiva.
- C. el desarrollo del agroturismo porque el campo se vuelve un lugar exótico.
- D. la mejoría en la infraestructura y los servicios ofrecidos por las ciudades.

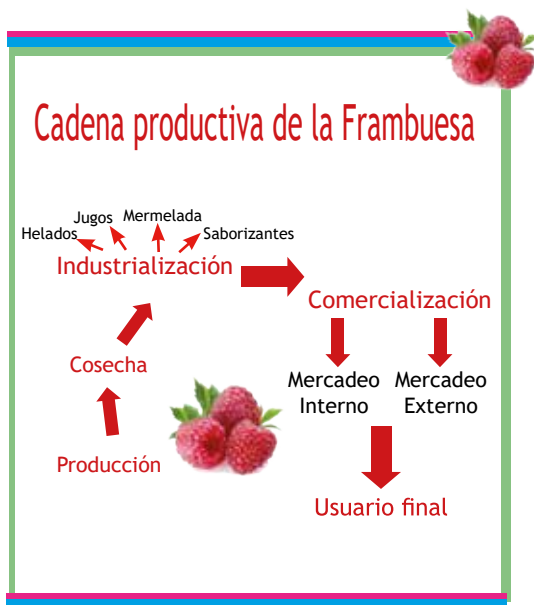
16. Las actividades económicas han sido clasificadas en tres sectores. El sector primario incluye las actividades extractivas que tienen contacto directo con la naturaleza y aprovechan los recursos vegetales, animales y minerales sin modificarlos. Las actividades de transformación pertenecen al sector secundario y permiten modificar las materias primas para el uso de los consumidores. Por último, las actividades de distribución y servicios pertenecen al sector terciario. De acuerdo con esta clasificación la agricultura es una actividad

- A. extractiva.
- B. transformadora.
- C. de distribución.
- D. de servicios.

17. En Colombia, las grandes industrias lecheras se ubican principalmente en regiones ganaderas. Esta localización permite reducir costos porque

- A. evita desperdicios y pérdidas por falta de refrigeración.
- B. los ordeñadores son también obreros en las fábricas.
- C. ahorran en transporte por la cercanía a la materia prima.
- D. las fábricas deben importar la fruta para los yogures.

RESPONDA LAS PREGUNTAS 18 A 20 DE ACUERDO CON LA SIGUIENTE GRÁFICA



18. Cuando la frambuesa y sus productos llegan al usuario final tienen un precio varias veces superior al que tenía la fruta al salir del cultivo. Para la creación de una microempresa con los menores costos posibles la mejor alternativa sería

- A. cultivar la frambuesa en una pequeña huerta.
- B. ahorrar dinero importando las materias primas.
- C. elaborar productos sintéticos que reemplacen la fruta.
- D. adquirir la fruta directamente con los campesinos.

19. La comercialización de mermeladas y jugos de frambuesa en el mercado externo se incluye en el sector

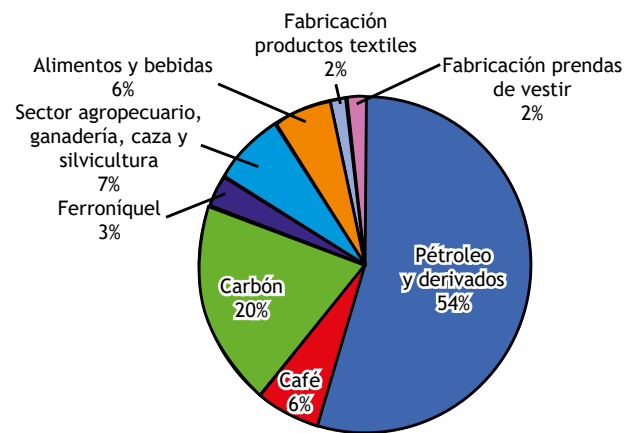
- A. primario.
- B. secundario.
- C. terciario.
- D. cuaternario.

20. De acuerdo con la gráfica, un aumento en los costos del transporte puede llevar a un aumento de los precios en el producto que llega al usuario final porque

- A. los jugos y helados han pasado por un proceso de transformación.
- B. las fábricas deben invertir más dinero para conseguir las materias primas.
- C. los comerciantes deben obtener una ganancia por conseguir clientes.
- D. las ofertas solo se consiguen durante la cosecha por la abundancia de fruta.

RESPONDA LAS PREGUNTAS 21 A 25 DE ACUERDO CON LA SIGUIENTE GRÁFICA

Porcentaje de exportaciones Colombianas por producto, 2010



21. Según la gráfica, se puede concluir que las exportaciones colombianas se concentran en el

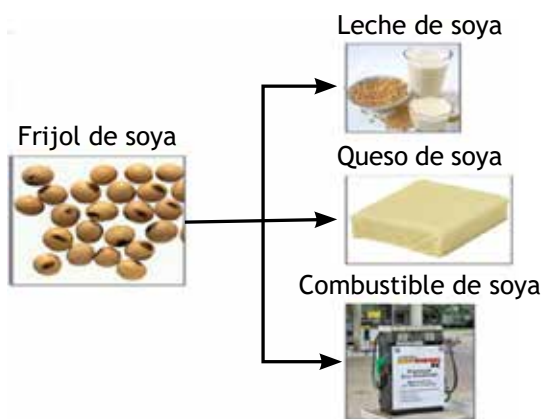
- A. sector agrícola.
- B. sector industrial extractivo.
- C. sector industrial de transformación.
- D. sector terciario.

22. El grupo denominado “sector agropecuario, ganadería, caza y silvicultura”, se exporta y puede pasar a ser fuente de los sectores secundario y terciario de la economía en otros países. Esto significa que los productos

- A. llegan sin transformación y son usados por industrias para procesarlos y venderlos en grandes tiendas.
- B. se compran en estado bruto y son vendidos para el consumo cotidiano de los habitantes.
- C. fueron producidos de forma orgánica, amigable con el ambiente y en cooperativas pequeñas.
- D. se encuentran contaminados y deben ser saneados para hacerlos aptos para el consumo.

23. Productos con un alto porcentaje de exportación como el petróleo y el carbón se encuentran lejos de los puertos de embarque. Esto encarece el precio final de venta porque
- los precios internacionales han estado subiendo sostenidamente.
 - son productos escasos, altamente demandados e inestables.
 - deben ser transportados por largos y complicados trayectos.
 - los costos de producción incluyen los impuestos de renta.
24. En doce años el país pasó a depender por completo del petróleo y el carbón, recursos escasos y NO renovables. Una vez se agoten las fuentes proveedoras, el país va a enfrentar un grave problema social. Para evitar llegar a un estado insostenible, se debería
- cerrar los pozos petrolíferos y los yacimientos de carbón.
 - vender a precios muy altos para ahorrar recursos a futuro.
 - planear medidas para contener el descontento social.
 - invertir en nuevos sectores de producción sostenibles.
25. En la gráfica se muestra una amplia disminución en la exportación de café lo que significa que los cultivadores han
- pedido trabajo en las minas de carbón y petróleo.
 - migrado a las ciudades a pedir subsidios de desempleo.
 - tenido que buscar nuevas actividades para sobrevivir.
 - entrado a las cifras nacionales de desempleo.
26. El nombre que corresponde al proceso de convertir los frijoles de soya en leche o en queso es
- transportar.
 - transfigurar.
 - deshacer.
 - transformar.
27. El uso de la soya como combustible satisface otra necesidad humana distinta a la alimentación y que se relaciona con
- el transporte.
 - la industria.
 - la recreación.
 - la educación.
28. El frijol de soya y sus productos se venden en las tiendas de las ciudades. Esto facilita a los consumidores la compra porque
- llegan a través del transporte público o personal.
 - en las tiendas se pueden sacar créditos.
 - las tiendas ofrecen promociones ecológicas.
 - encuentran los productos en un lugar cercano.
29. La producción de diesel de soya hace parte de los intentos por encontrar combustibles alternativos con bajos niveles de contaminación; por esa razón los productores de soya deberían
- acabar con los cultivos porque además de contaminar están monopolizando tierras.
 - aumentar los cultivos porque además de ser un alimento son fuente de combustible.
 - organizarse en cooperativas para incluir la producción de familias campesinas pobres.
 - presionar a los gobiernos para que aumenten el uso de combustibles de origen vegetal.
30. Escoge entre las siguientes imágenes el paso intermedio para hacer leche de soya

**RESPONDA LAS PREGUNTAS
26 A 30 DE ACUERDO CON LA
SIGUIENTE GRÁFICA**



31. Los treinta años de hegemonía conservadora se caracterizaron por la concentración del poder en Bogotá, dejando las demás regiones excluidas, por lo cual

- A. los departamentos intentaron separarse.
- B. creció el poder de los políticos regionales.
- C. Panamá logró alcanzar su independencia.
- D. las regiones tuvieron un lento desarrollo.

32. Durante la república liberal se aplicaron algunas medidas como la construcción de vías o la implantación de industrias nacionales lo cual trajo consigo la

- A. organización sindical.
- B. legislación económica.
- C. migración sistemática.
- D. generación de empleo.

RESPONDA LAS PREGUNTAS 33 A 35 DE ACUERDO CON LA SIGUIENTE GRÁFICA

Caricatura de Ricardo Rendón sobre la masacre de las bananeras.



33. Se puede decir que, después de la masacre, los trabajadores de las empresas bananeras

- A. disminuyeron las protestas por el temor a las medidas del gobierno.
- B. constituyeron organizaciones clandestinas para atacar los cultivos.
- C. cambiaron de actividad porque los empresarios se fueron del país.
- D. marcharon hasta Bogotá a pedir el derecho a la libre organización.

34. El presidente Abadía firmó en diciembre de 1928 el decreto número 4 con el cual se declaraba como "cuadrilla de malhechores" a quienes participaran en protestas populares. Por esta razón, las protestas quedaron en el marco de la ilegalidad, lo cual

- A. llevó a las organizaciones obreras a actuar con apoyo del gobierno.
- B. sirvió de marco legal a Cortés Vargas para ordenar los asesinatos.
- C. volvió atractivo el país para establecer empresas estadounidenses.
- D. ayudó a las empresas a controlar los salarios y las contrataciones.

35. Si la empresa hubiera accedido a las peticiones de los trabajadores habría

- A. perdido ganancias.
- B. ganado partidarios.
- C. evitado la masacre.
- D. limpiado su nombre.

36. El 1° de diciembre de 1957 los colombianos votaron una reforma a la Constitución en la cual se incluía la formación de una figura política que permitió que los partidos Conservador y Liberal se turnaran en el poder, la cual se conoció como

- A. salida pacífica.
- B. la solución final.
- C. frente nacional.
- D. mandato liberal.

37. El hecho de que los partidos tradicionales en Colombia, durante 16 años, se turnaran en el poder produjo

- A. el desarrollo del sector terciario en la economía latinoamericana.
- B. la formación de una dirigencia política que ayudaba a los nazis.
- C. la exclusión de los partidos distintos al liberal y el conservador.
- D. el estancamiento de la producción agraria en pequeña escala.

38. Una de las consecuencias de la alternancia de poder de los partidos tradicionales fue el desarrollo de grupos armados que buscaban el acceso al poder por medio de la violencia, es decir que para evitarlo se debió

- A. incluir otros actores políticos y sociales en el gobierno nacional.
- B. desarrollar la economía de exportación lo que generaba empleo.
- C. demostrar que la democracia es una teoría lejana a la realidad.
- D. cambiar el sistema político para que se ajustara a las dictaduras.

39. Observa la siguiente tabla

MATRÍCULA EN EDUCACIÓN SUPERIOR POR SEXO Y LA NATURALEZA INSTITUCIONAL (1935-1984)

Año	Matrícula Total	Hombres	Mujeres
1935	4.137	4.079	58
1945	6.512	6.275	237
1955	13.284	11.079	2.205
1960	23.013	18.779	4.234
1964	36.617	28.785	7.832
1970	85.560	62.524	22.930
1974	148.021	95.982	52.039
1980	271.680	150.515	121.115
1984	378.586	--	180.909

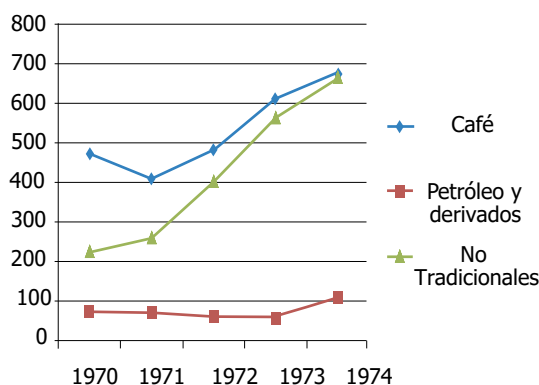
Fuente: http://www.anuies.mx/servicios/p_anuies/publicaciones/revsup/res092/txt4.htm#4

El aumento de la matrícula de mujeres en la universidad generó cambios en la forma como la mujer era vista en la sociedad porque

- A. la familia se destruyó con el acceso laboral de la mujer.
- B. se amplió el campo de desempeño femenino en el país.
- C. la infancia creció en un hogar de poderes equilibrados.
- D. se incluyó el salario al servicio doméstico en el mundo.

40. Observa el siguiente gráfico

Exportaciones de Colombia entre 1970 y 1974, en millones de dólares.



Fuente de los datos:
<http://www.dnp.gov.co/EstudiosEconomicos/Estad%C3%ADsticasHist%C3%B3ricasdeColombia.aspx>

En 1959 el gobierno colombiano creó el Plan Vallejo por medio del cual se disminuían los impuestos a las importaciones de bienes usados por el sector expor-

tador (fábricas y transporte); esto, a comienzos de los setenta, benefició principalmente a

- A. las empresas petroleras del sector privado, especialmente las dedicadas a la venta de acciones.
- B. los consumidores de bienes básicos porque los productos se compraban baratos en el exterior.
- C. las ventas de café porque fueron acercándose más a las exportaciones no tradicionales.
- D. las exportaciones no tradicionales, especialmente las relacionadas con el sector industrial.

RESPONDA LAS PREGUNTAS 41 A 42 DE ACUERDO CON LA SIGUIENTE GRÁFICA



Fuente: <http://observatoriogeograficoamericalatina.org.mx/egal11/Geografiasocioeconomica/Geografiaagricola/06.pdf>

41. Del mapa se puede afirmar que

- A. el inicio del narcotráfico en Colombia se remonta a la década de los setenta.
- B. la primera etapa del narcotráfico se extendió por toda la región costera del país.
- C. el desplazamiento forzado es un fenómeno que se remonta a los noventa.
- D. los cultivos ilícitos han deforestado los bosques selváticos del continente.

42. Según el mapa, la denominada segunda etapa de los cultivos ilícitos en Colombia llevó

- A. a la aparición del sicariato entre los jóvenes pobres.
- B. al desarrollo de cultivos alternativos en las costas.
- C. al aumento de divisas internacionales en el país.
- D. a la deforestación gradual de las selvas del Meta y Guaviare.

43. Observa la siguiente gráfica



Adaptado de: <http://www.scielo.org/ve/img/fbpe/a/v17/Art05.6.gif>

Los cultivos de coca generan el incremento de los miembros de grupos paramilitares porque

- A. los miembros de los grupos paramilitares persiguen a los cultivadores.
- B. al aumentar las hectáreas se necesitan más personas para cuidarlas.
- C. la década de los noventa implicó un descenso del narcotráfico.
- D. al aumentar los miembros se requieren más militares para combatirlos.

44. La lucha contra las drogas en Colombia se ha concentrado en el ataque a quienes las producen y comercializan, y ha dejado de lado la prevención del consumo y el tratamiento de los enfermos. Este enfoque ha permitido el aumento de los consumidores, pasando de menos del 0,05% de la población entre 18 y 24 años en 1970, al 0,15% en 2010.



De acuerdo con lo anterior

- A. para evitar el aumento de los consumidores se deben recuperar los valores patrióticos perdidos en los setenta.
- B. ante el aumento de consumidores se debe olvidar el discurso de las libertades individuales de la Constitución.
- C. para evitar el ascenso de los consumidores las escuelas deben expulsar a los estudiantes sin familia nuclear.
- D. ante el aumento de consumidores es necesario revisar la política antidrogas y generar planes enfocados en la demanda.

45. Desde la década de los noventa, el conflicto del país ha expulsado a miles de personas de las zonas rurales, muchas de los cuales se han concentrado en las principales ciudades. Este hecho conocido como desplazamiento forzado

- A. aumenta los asentamientos ilegales en la ciudad lo cual genera posibilidades de urbanización organizada.
- B. es la principal causa del desempleo campesino y de los bajos salarios en el campo colombiano.
- C. favorece los asentamientos ilegales en la ciudad lo cual aumenta los riesgos ante los fenómenos naturales.
- D. es la principal causa de la violencia de género e intrafamiliar en los sectores rurales y urbanos del país.

RESPONDA LAS PREGUNTAS 46 A 48 DE ACUERDO CON LA SIGUIENTE GRÁFICA

Las 'estrategias' contra la UP

"En algunos sectores de las Fuerzas Armadas asociados con paramilitares y narcotraficantes se instrumentaban de manera eficiente las estrategias de eliminación de la Unión Patriótica". Esta declaración, corresponde a un testimonio aportado por el exconsejero presidencial Carlos Ossa Escobar. En esencia, quien fuera el consejero para la rehabilitación, normalización y reparación en el gobierno del presidente Virgilio Barco admitió que, si bien la creación de la Unión Patriótica fue el elemento fundamental del proceso de paz entre el gobierno de Belisario Betancur y las Farc, al que se le quiso dar continuidad en el gobierno Barco, también es cierto que desde sus orígenes surgió la estrategia de eliminación de sus militantes.

Texto adaptado de: <http://www.elespectador.com/impreso/judicial/articulo-276623-estrategias-contra-up>

46. De acuerdo con el texto se puede señalar que el proceso de paz, favoreció

- A. la existencia de movimientos políticos de oposición que tenían ideologías radicales.
- B. el desconocimiento de los consejos dados por los asesores políticos a los partidos.
- C. la creación de grupos guerrilleros que se alimentaban del dinero de cada municipio.
- D. el desarrollo de academias de política exterior con énfasis en resolución de conflictos.

47. Del texto se puede inferir que una de las causas para el rompimiento del proceso de paz fue

- A. el deseo de las fuerzas militares de acceder al poder.
- B. los vínculos que existían entre los militares y la iglesia.

- C. la eliminación de los miembros de la Unión Patriótica.
- D. las tasas de desempleo que se presentaron en 1990.

48. De acuerdo con el texto el rompimiento del proceso de paz con las Farc sería una de las causas de

- A. el desarrollo político de partidos de oposición.
- B. la violencia intrafamiliar en los hogares rurales.
- C. el vínculo entre el narcotráfico y los políticos.
- D. la prolongación del conflicto armado en el país.

49. Observa la siguiente imagen



Fuente: http://2.bp.blogspot.com/_Q51hTXluNlc/TDy7svV9cel/AAAAAAAAAGk/uwM1oBvAFJo/s1600/IMG_0005.JPG

Desde 1950 se viene presentando una migración constante de personas a las principales ciudades del país; ellos se establecen en los límites de las ciudades lo cual, de acuerdo con la imagen, genera

- A. constantes riesgos debido a la inestabilidad de los terrenos ocupados.
- B. un nuevo desplazamiento al interior de la ciudad con ayuda del ejército.
- C. el crecimiento controlado y organizado de las viviendas para los viejos.
- D. frecuentes problemas de movilidad por la cantidad de carros nuevos.

50.

Decreto 033 de 2009

Regulación del pico y placa para vehículos particulares

Problemas de movilidad

No se resuelven solo con la medida de pico y placa, según expertos.

Considerando:

Que de acuerdo con las cifras del Registro Distrital Automotor, en los últimos diez (10) años la cantidad total de vehículos particulares creció el 102% respecto del año 1998, al pasar de 523.187 a 1.057.390 unidades, cifra a la que debe adicionarse los más de 270.000 vehículos registrados en otras ciudades que ruedan habitualmente en la ciudad.

Que el incremento del parque automotor particular, genera a su vez una disminución directa de las velocidades de viaje para todos los vehículos.

El analista Mario Noriega insiste en que la estrategia más importante en este momento es la administración del tráfico: "No permitir el estacionamiento en vía, sincronizar los semáforos, atender las emergencias rápidamente retirando los carros de la vía en los casos de accidente; en estos aspectos es donde está el tema crítico".

Adaptado de: <http://www.alcaldiabogota.gov.co/sisjur/normas/Norma1.jsp?i=34944>
<http://www.eltiempo.com/archivo/documento/CMS-4880510>

De acuerdo con los textos, la administración distrital se ha concentrado en una medida para solucionar el problema de movilidad. Este problema -según Mario Noriega- debería ser abordado

- A. disminuyendo el atractivo para la compra de vehículos particulares.
- B. desde punto de vista de la regulación efectiva del tránsito.
- C. promoviendo la fabricación de semáforos de tecnología avanzada.
- D. con la creación de parqueaderos en vez de vías rápidas.



RESPUESTAS

SOCIALES 5°

Nro	Respuesta
1	D
2	B
3	A
4	B
5	C
6	A
7	C
8	A
9	B
10	D
11	B
12	A
13	D
14	C
15	A
16	A
17	C
18	D
19	C
20	B
21	B
22	A
23	C
24	D
25	C

Nro	Respuesta
26	D
27	A
28	D
29	B
30	C
31	B
32	D
33	A
34	B
35	C
36	C
37	C
38	A
39	B
40	D
41	A
42	D
43	B
44	D
45	C
46	A
47	C
48	D
49	A
50	B